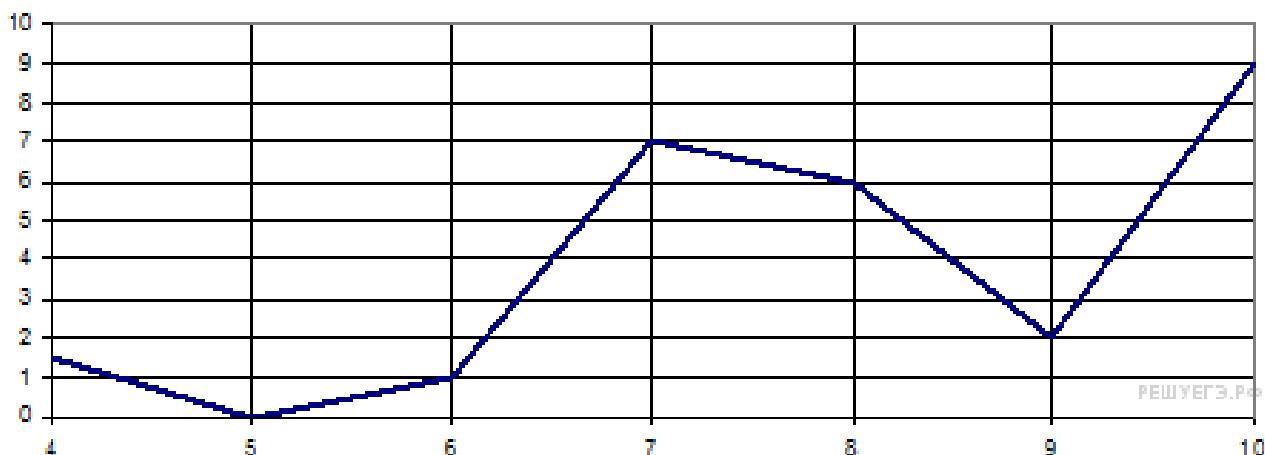


Вариант № 2917714

1. В 2 № 77333. 1 киловатт-час электроэнергии стоит 1 рубль 80 копеек. Счетчик электроэнергии 1 ноября показывал 12 625 киловатт-часов, а 1 декабря показывал 12 802 киловатт-часа. Сколько рублей нужно заплатить за электроэнергию за ноябрь?

2. В 2 № 77340. В школе 124 ученика изучают французский язык, что составляет 25% от числа всех учеников. Сколько учеников учится в школе?

3. В 3 № 27529. На рисунке изображен график осадков в г. Калининграде с 4 по 10 февраля 1974 г. На оси абсцисс откладываются дни, на оси ординат — осадки в мм. Определите по рисунку, сколько дней из данного периода выпадало от 2 до 8 мм осадков.

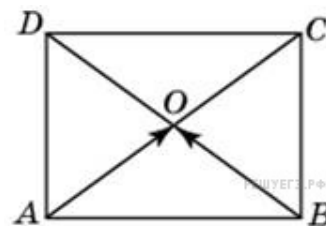


4. В 4 № 26676. Клиент хочет арендовать автомобиль на сутки для поездки протяженностью 500 км. В таблице приведены характеристики трех автомобилей и стоимость их аренды. Помимо аренды клиент обязан оплатить топливо для автомобиля на всю поездку. Какую сумму в рублях заплатит клиент за аренду и топливо, если выберет самый дешевый вариант?

Автомобиль	Топливо	Расход топлива (л на 100 км)	Арендная плата (руб. за 1 сутки)
А	Дизельное	7	3700
Б	Бензин	10	3200
В	Газ	14	3200

Цена дизельного топлива — 19 рублей за литр, бензина — 22 рублей за литр, газа — 14 рублей за литр.

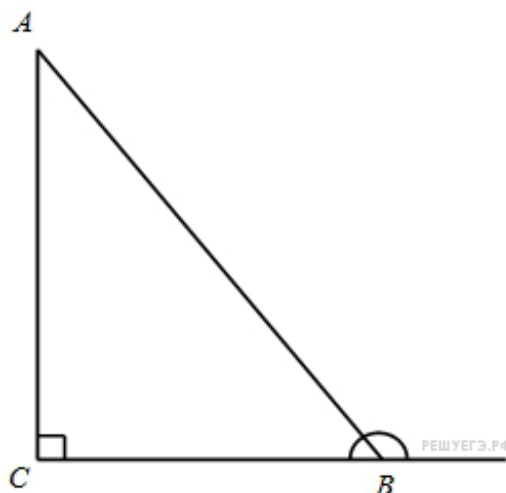
5. В 5 № 27711. Две стороны изображенного на рисунке прямоугольника $ABCD$ равны 6 и 8. Диагонали пересекаются в точке O . Найдите длину суммы векторов \vec{AO} и \vec{BO} .



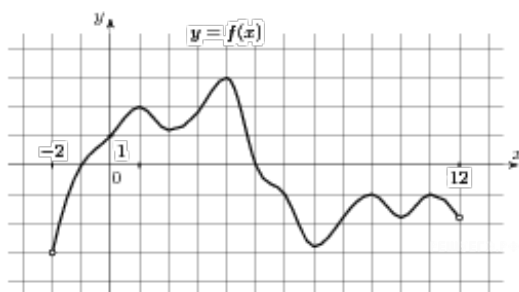
6. В 6 № 320202. По отзывам покупателей Иван Иванович оценил надёжность двух интернет-магазинов. Вероятность того, что нужный товар доставят из магазина А, равна 0,8. Вероятность того, что этот товар доставят из магазина Б, равна 0,9. Иван Иванович заказал товар сразу в обоих магазинах. Считая, что интернет-магазины работают независимо друг от друга, найдите вероятность того, что ни один магазин не доставит товар.

7. В 7 № 26648. Найдите корень уравнения $\log_5(5 - x) = \log_5 3$.

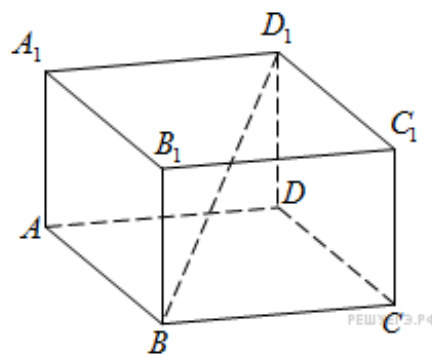
8. В 8 № 27375. В треугольнике ABC угол C равен 90° , $\operatorname{tg} A = \frac{7}{24}$. Найдите косинус внешнего угла при вершине B .



9. В 9 № 27490. На рисунке изображен график функции $y=f(x)$, определенной на интервале $(-2; 12)$. Найдите сумму точек экстремума функции $f(x)$.



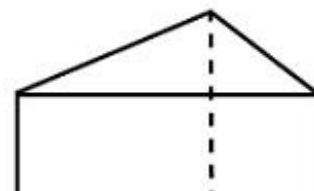
10. В 10 № 916. В прямоугольном параллелепипеде $ABCD A_1 B_1 C_1 D_1$ известно, что $BD_1 = 5$; $CC_1 = 3$; $B_1 C_1 = \sqrt{7}$. Найдите длину ребра AB .

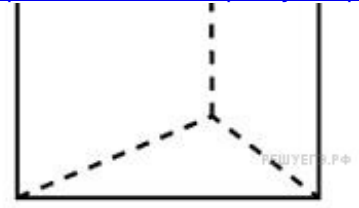


11. В 11 № 77386. Найдите значение выражения $(9b^2 - 49) \left(\frac{1}{3b-7} - \frac{1}{3b+7} \right) + b - 13$ при $b = 345$.

12. В 12 № 27989. Автомобиль, масса которого равна $m = 2160$ кг, начинает двигаться с ускорением, которое в течение t секунд остается неизменным, и проходит за это время путь $S = 500$ метров. Значение силы (в ньютонах), приложенной в это время к автомобилю, равно $F = \frac{2mS}{t^2}$. Определите наибольшее время после начала движения автомобиля, за которое он пройдет указанный путь, если известно, что сила F , приложенная к автомобилю, не меньше 2400 Н. Ответ выразите в секундах.

13. В 10 № 27151. Основанием прямой треугольной призмы служит прямоугольный треугольник с катетами 6 и 8. Площадь ее поверхности равна 288. Найдите высоту призмы.





14. В 14 № 99604. Путешественник переплыл море на яхте со средней скоростью 20 км/ч. Обратно он летел на спортивном самолете со скоростью 480 км/ч. Найдите среднюю скорость путешественника на протяжении всего пути. Ответ дайте в км/ч.

15. В 15 № 77420. Найдите точку минимума функции $y = x^3 - 48x + 17$.

16. С 1 № 485932. Дано уравнение $\cos\left(\frac{3\pi}{2} + 2x\right) = \cos x$.

а) Решите уравнение;

б) Укажите корни уравнения, принадлежащие отрезку $\left[\frac{5\pi}{2}; 4\pi\right]$.

17. С 2 № 484558. В прямоугольном параллелепипеде $ABCDA_1B_1C_1D_1$ заданы длины ребер $AD = 12$, $AB = 5$, $AA_1 = 8$. Найдите объем пирамиды MB_1C_1D , если M — точка на ребре AA_1 , причем $AM = 5$.

18. С 3 № 500640. Решите систему
$$\begin{cases} 2^x + 6 \cdot 2^{-x} \leq 7, \\ \frac{2x^2 - 4x}{x - 4} \leq 0. \end{cases}$$

19. С 4 № 485990. Дан треугольник ABC со сторонами $AB = 15$, $AC = 9$ и $BC = 12$. На стороне BC взята точка D , а на отрезке AD — точка O , причем $CD = 4$ и $AO = 3OD$. Окружность с центром O проходит через точку C . Найдите расстояние от точки C до точки пересечения этой окружности с прямой AB .

20. С 5 № 485952. Найдите все положительные значения a , при каждом из которых система уравнений

$$\begin{cases} (|x| - 9)^2 + (y - 5)^2 = 9, \\ (x + 3)^2 + y^2 = a^2 \end{cases}$$

имеет единственное решение.

21. С 6 № 484669. Найдите все простые числа b , для каждого из которых существует такое целое число a , что дробь $\frac{a^4 + 12a^2 - 5}{a^3 + 11a}$ можно сократить на b .